

追検査

受検番号	第	番
------	---	---

平成31年度学力検査問題

社 会 (11時45分～12時35分)
(50分間)

注 意

1 解答用紙について

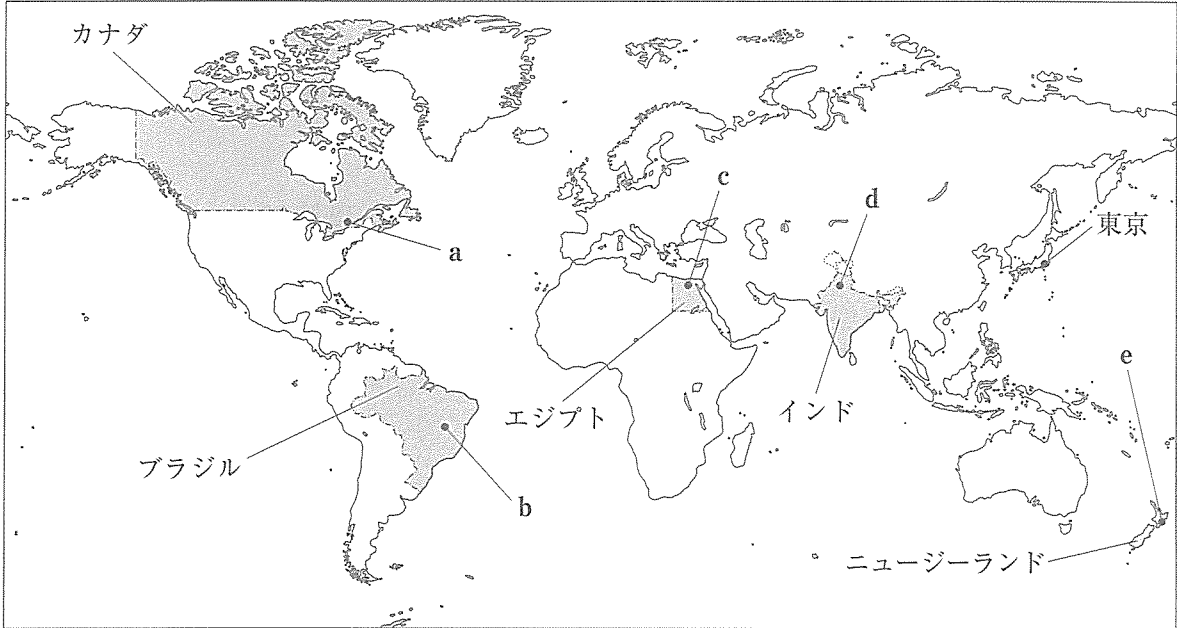
- (1) 解答用紙は1枚で、問題用紙にはさんであります。
- (2) 係の先生の指示に従って、所定の欄2か所に受検番号を書きなさい。
- (3) 答えはすべて解答用紙のきめられたところに、はっきりと書きなさい。
- (4) 解答用紙は切りはなしてはいけません。
- (5) 解答用紙の※印は集計のためのもので、解答には関係ありません。

2 問題用紙について

- (1) 表紙の所定の欄に受検番号を書きなさい。
 - (2) 問題は全部で6問あり、表紙を除いて17ページです。
- 印刷のはっきりしないところは、手をあげて係の先生に聞きなさい。

1 Kさんは、カナダ、ブラジル、エジプト、インド及びニュージーランドの5か国について調べました。次の地図1をみて、問1～問4に答えなさい。(15点)

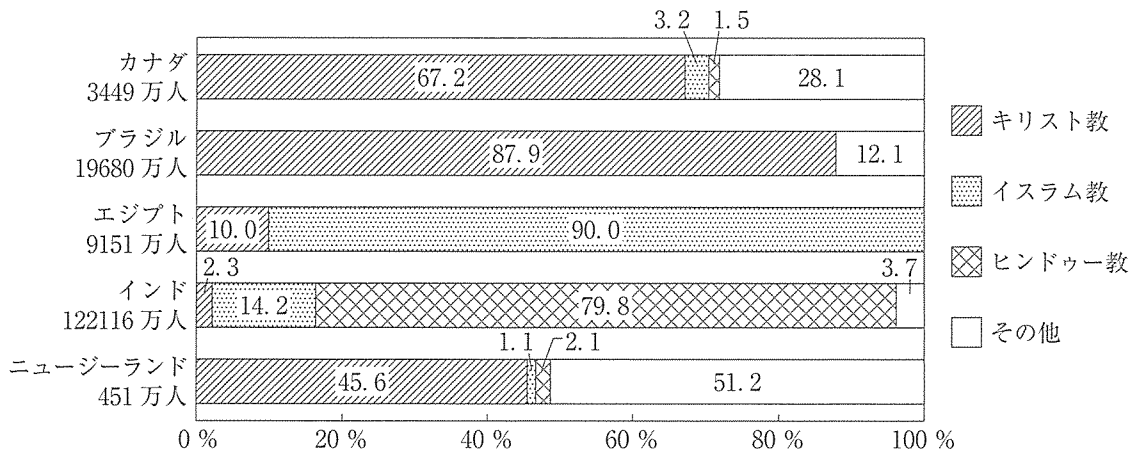
地図1



問1 三大洋のうち、地図1中に示したニュージーランドが面している海洋の名称を書きなさい。(2点)

問2 Kさんは、地図1中に示した5か国の宗教などについて調べ、次のグラフと表1をつくりました。グラフと表1から読みとれるエジプトの特色を、他の4か国と比較して書きなさい。(5点)

グラフ 5か国の人口とおもな宗教別人口の割合



(注) ブラジルが2010年、カナダとインドが2011年、ニュージーランドが2013年、エジプトが2015年の統計である。(世界国勢図会2017/18年版などから作成)

表1 5か国の豚の家畜頭数と1人あたりのアルコール消費量(2014年)

	カナダ	ブラジル	エジプト	インド	ニュージーランド
豚の家畜頭数(千頭)	13055	37930	11	10000	287
1人あたりのアルコール消費量(L)	8.10	7.17	0.20	3.02	9.15

(世界国勢図会2017/18年版などから作成)

問 3 地図 1 中の a～e は、5 か国の首都の位置を示しています。東京から最短ルートでそれぞれの首都へ移動するとき、赤道と日付変更線を通る首都はどれですか。東京からの距離と方位が正しくあらわされた地図 2 をみて、最も適切なものを、地図 1 中の a～e の中から一つ選び、その記号を書きなさい。

(3 点)

地図 2



問 4 Kさんは、地図 1 中に示した 5 か国のうち、4 か国の貿易などについて調べ、表 2 をつくり、読みとった内容をまとめました。表 2 とまとめをみて、下の(1)と(2)の問いに答えなさい。

表 2

		国民 1 人あたりの GNI (ドル)	総額(億ドル)		輸出品上位 3 品目と輸出総額に占める割合(%)
			輸出	輸入	
カナダ	2000 年	23448	2771	2401	自動車(20.9), 機械類(16.3), 天然ガス(4.9)
	2015 年	42542	4088	4192	自動車(14.6), 原油(12.3), 機械類(11.0)
ブラジル	2000 年	3634	553	589	機械類(13.6), 自動車(7.9), 鉄鋼(6.7)
	2015 年	8342	1911	1714	大豆(11.0), 機械類(8.0), 肉類(7.5)
インド	2000 年	426	450	508	ダイヤモンド(13.9), 衣類(13.7), 繊維品(13.3)
	2015 年	1595	2644	3907	石油製品(11.7), 機械類(8.4), ダイヤモンド(8.3)
ニュージーランド	2000 年	13309	133	139	酪農品(15.9), 肉類(12.9), 木材(8.5)
	2015 年	37044	344	365	酪農品(23.6), 肉類(14.4), 野菜・果実(6.1)

(世界国勢国会 2017/18 年版などから作成)

まとめ

表 2 から、4 か国の国民 1 人あたりの GNI を、2000 年と 2015 年で比較すると、最も増加率が高い国は であることがわかる。また、4 か国の輸出総額と輸入総額を、2000 年と 2015 年で比較すると、輸出総額が輸入総額を上回っている国は、2000 年ではカナダのみであり、2015 年では のみであることが読みとれる。

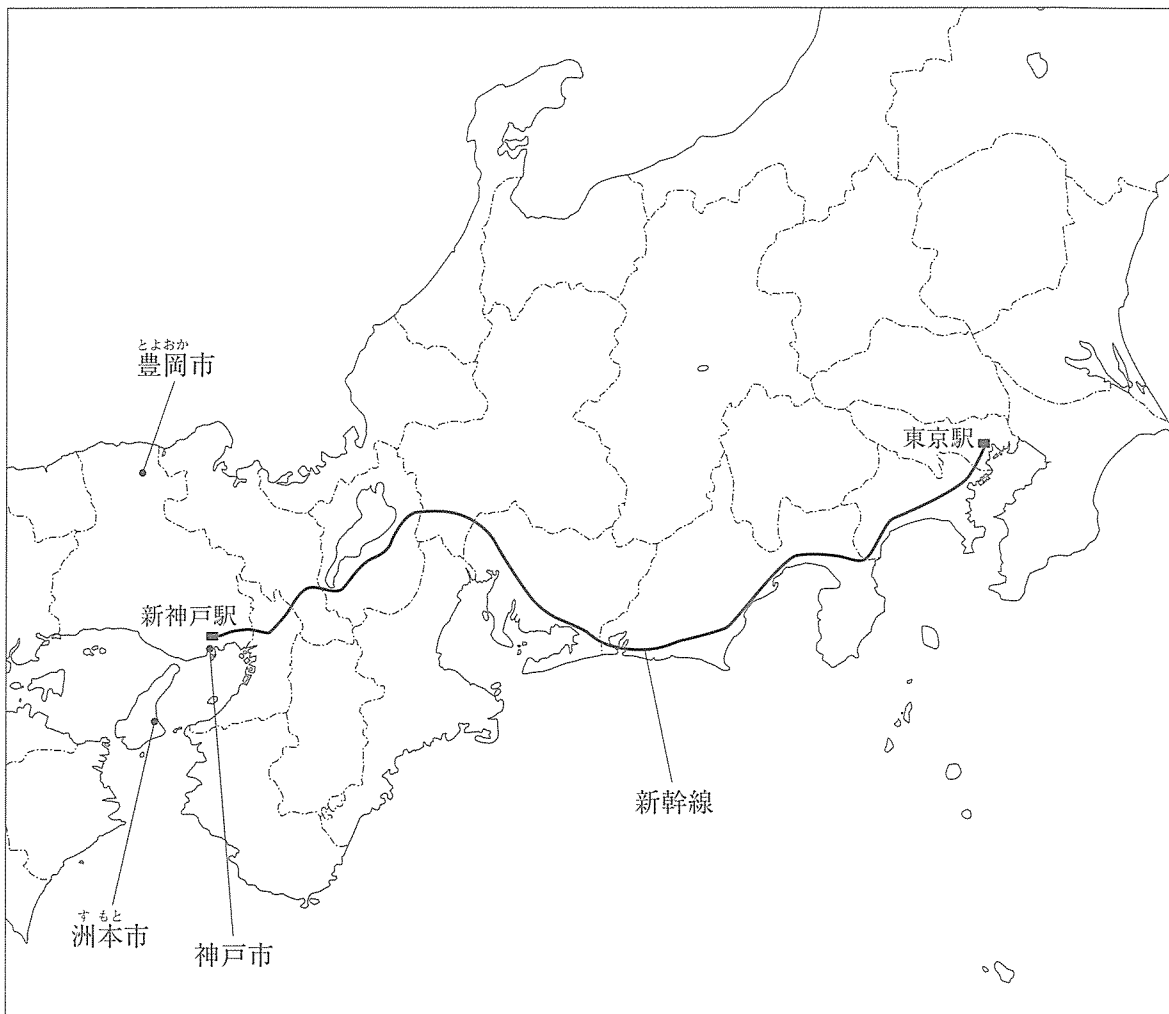
輸出品上位 3 品目をみると、カナダの輸出品目の第 1 位は、2000 年、2015 年ともに自動車であるが、輸出額を計算すると、2000 年に比べて 2015 年の自動車の輸出額は していることがわかる。また、ニュージーランドの 2015 年の輸出品上位 3 品目の中には、他の 3 か国の 2015 年の輸出品上位 3 品目において、すべてに共通してみられる がないことが読みとれる。

(1) まとめの中の と にあてはまる国名を、それぞれ書きなさい。(2 点)

(2) まとめの中の と にあてはまる語を、それぞれ書きなさい。(3 点)

2 Sさんは、夏休みに新幹線で兵庫県神戸市に家族旅行をしました。次の地図1をみて、問1～問4に答えなさい。(15点)

地図1



問1 次の資料1は、Sさんが東京駅から新神戸駅まで新幹線に乗った際、通った順に都府県をまとめたものです。資料1中の と にあてはまる県名を、それぞれ書きなさい。

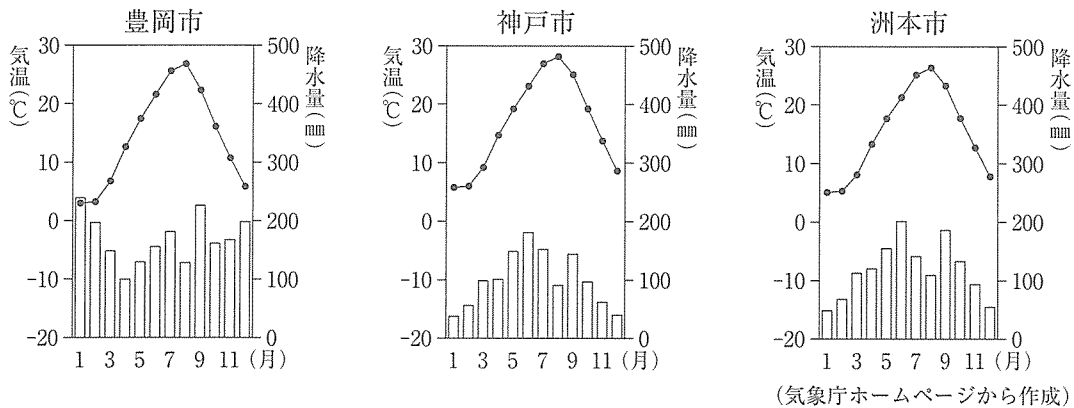
(2点)

資料1

東京都→神奈川県→静岡県→愛知県→ 県→ 県→京都府→大阪府→兵庫県

問 2 次のグラフ 1 は、地図 1 中の豊岡市、神戸市及び洲本市の気温と降水量を示したものです。豊岡市の気候は、神戸市と洲本市の気候と比べるとある特色がみられます。日本の気候区分のうち豊岡市の属する気候の特色を、季節風と関連づけて説明しなさい。(5点)

グラフ 1



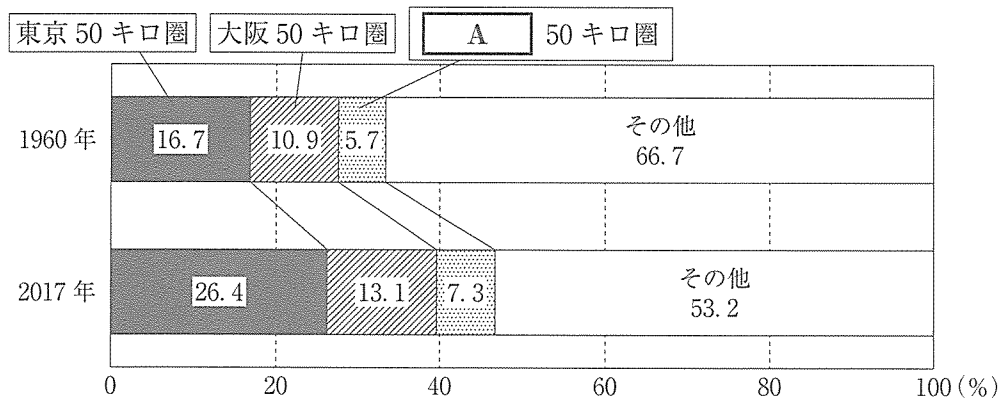
問 3 Sさんは、日本の人口分布の特色と課題について調べ、次のようにまとめました。まとめの中の **A** にあてはまる都市名と **B** にあてはまる語を、それぞれ書きなさい。

(3点)

まとめ

日本では、人口の大部分は平野や盆地に分布し、なかでも都市部に集中しています。東京、大阪、**A** を中心とした都市圏は三大都市圏と呼ばれ、神戸市は、このうち大阪市を中心とする大都市圏に含まれます。三大都市圏では、高度経済成長期に人口や企業の集中が急速に進んだため、次のグラフ 2 のように、2017年には、国民の約 2.1 人に 1 人が三大都市圏に住んでいる計算になります。その結果、三大都市圏に位置している大都市は、人口が著しく集中する **B** 地域となったため、公共施設の整備が追いつかず、交通渋滞や住宅不足、大気汚染、ごみ問題などの **B** 問題が発生するようになりました。そのため、市街地の再開発や郊外の住宅地開発、新しい鉄道の整備、職場の郊外への移転などによって **B** の解消が図られています。


グラフ 2 全国に占める三大都市 50 キロ圏の人口の割合



(日本のすがた 2018 から作成)

問 4 右の地図 2 は、地図 1 中の神戸市の一部を示した 2 万 5 千分の 1 の地形図です。地図 2 をみて、次の(1)と(2)の問いに答えなさい。

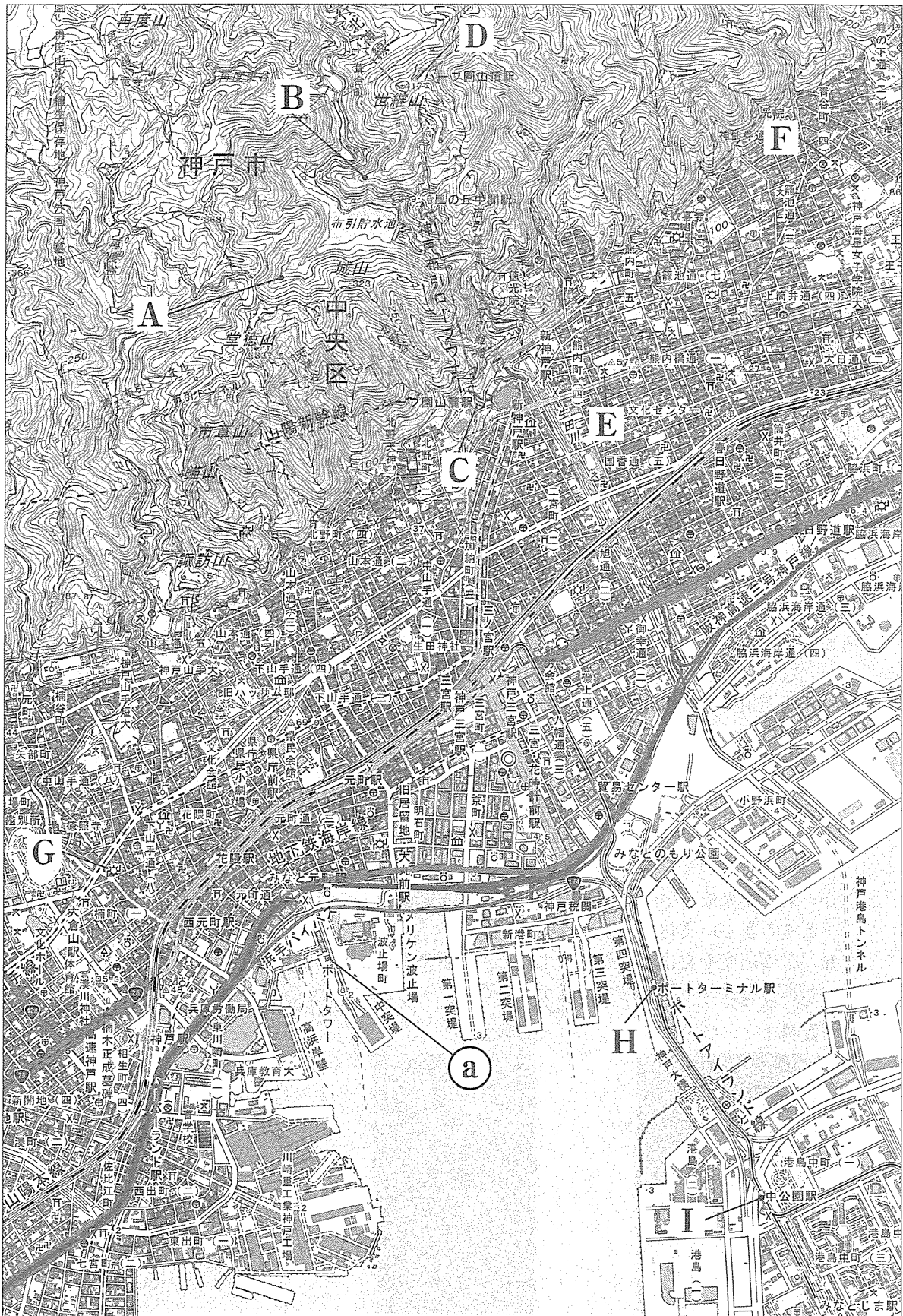
- (1) 次の資料 2 は、S さんが地図 2 中の (a) 地点のポートタワーの展望室から、東・西・南・北のそれぞれの方向を撮影した写真です。このポートタワーからみて、東の方向を撮影した写真として最も適切なものを、資料 2 中のア～エの中から一つ選び、その記号を書きなさい。(2 点)
- 資料 2



- (2) 地図 2 から読みとれる内容を述べた文として下線部が正しいものを、次のア～オの中からすべて選び、その記号を書きなさい。(3 点)


- ア A 地点の高さと B 地点の高さを比べると、B 地点の方が高い。
- イ C 地点の「ハープ園山麓駅」から D 地点の「ハープ園山頂駅」までロープウェイで移動する途中には、進行方向左側に「布引貯水池」がある。
- ウ E 地点の小・中学校からみると、F 地点の小・中学校は、およそ南東の方向にある。
- エ G 地点には、発電所または変電所がある。
- オ H 地点の「ポートターミナル駅」から I 地点の「中公園駅」までの直線距離は、地図上で約 4 cm であり、実際の直線距離は約 2 km である。


地図 2





(国土地理院 2万5千分の1地形図「神戸首部」平成27年発行一部改変)

3 次の資料A～資料Dは、Hさんが、4つの異なる時代に建てられた建物についてまとめたものです。これを見て、問1～問4に答えなさい。(15点)

資料A 法隆寺(奈良県斑鳩町)

 ①聖徳太子が建てた法隆寺には、金堂・五重塔などの建築物をはじめ、釈迦三尊像などの文化財が残されています。

資料B 正倉院(奈良県奈良市)

 三角形の木材を組んだ校倉造でつくられた
 ※正倉院正倉より提供
 ②正倉院には、シルクロードを通して西アジアやインドから伝わった道具や楽器も納められていました。

資料C 鹿苑寺の金閣(京都府京都市)

 将軍の③足利義満が北山に建てた3層からなる別荘で、層によって建築の様式が異なっています。

資料D 日光東照宮(栃木県日光市)

 ④徳川家康をまつている神社で、おもな建物は、徳川家光の時代に建てられました。

※鹿苑寺より提供

問1 下線部①の人物に関して述べた文として正しいものを、次のア～エの中から一つ選び、その記号を書きなさい。(2点)

- ア 豪族が支配していた土地と人々とを、公地・公民として国家が直接支配する方針を示した。
- イ 壬申の乱に勝って即位し、天皇の地位を高めて律令や歴史書をまとめるよう命じた。
- ウ 冠位十二階の制度を設けて、家柄にとらわれず、有能な人物を役人に取り立てようとした。
- エ 坂上田村麻呂を征夷大將軍に任命し、蝦夷が抵抗を続ける東北地方に大軍を送った。

問2 Hさんは、文化に興味をもち調べたところ、次のa、bの文と資料1、資料2をみつけました。下線部②が建てられた時代に栄えた文化について述べた文と、その時代の代表的な文化財の組み合わせとして正しいものを、表1中のア～エの中から一つ選び、その記号を書きなさい。(2点)

- a 京都や大阪を中心とする上方では、都市の繁栄を背景に、経済力をもった町人をにない手とする新しい文化が栄えた。
- b 唐の制度や文化を取り入れようと、遣唐使をたびたび中国に送ったため、仏教と唐の文化の影響を受けた国際的な文化が栄えた。

資料1



菱川師宣がえがいた見返り美人図

資料2



とりげりつじょびょうぶ鳥毛立女屏風
 ※正倉院正倉より提供

表1

	文化	代表的な文化財
ア	a	資料1
イ	a	資料2
ウ	b	資料1
エ	b	資料2

※菱川師宣、見返り美人(婦女図)、東京国立博物館、Image:TNM Image Archivesより提供

問 3 下線部③に関連して、足利氏が将軍であった時代について、次の(1)と(2)の問いに答えなさい。

- (1) Hさんは、足利氏が将軍であった時代に復興した祇園祭^{ぎおんまつり}について調べ、次のようにまとめました。まとめの中の **P** にあてはまる語を書きなさい。(3点)

まとめ

応仁の乱から復興した京都では、 **P** と呼ばれる裕福な商工業者によって都市の政治が行われました。右の資料3にえがかれた祇園祭は、応仁の乱で中断しましたが、 **P** の願いにより復興し、現在も守り伝えられています。

資料3 ※米沢市(上杉博物館)より提供



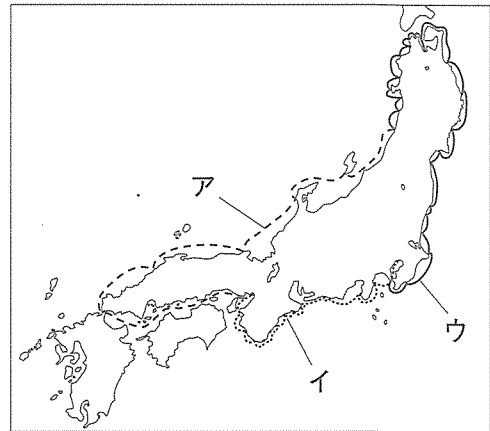
- (2) 足利氏が将軍であった時代に起こった世界のできごとを述べた文として、その正誤の組み合わせが正しいものを、下のア～エの中から一つ選び、その記号を書きなさい。(2点)

X 中国では、漢がほろび、魏、蜀、呉の三国に分かれて争った。
 Y 中国東北部の女真族が建国した清が、中国全土を支配下に置いた。
 Z 元が国内の混乱などでおとろえると、漢民族が明を建国した。

ア X 正 Y 誤 Z 誤 イ X 正 Y 正 Z 誤
 ウ X 誤 Y 正 Z 正 エ X 誤 Y 誤 Z 正

問 4 下線部④に関連して、徳川氏が将軍であった時代について、次の(1)と(2)の問いに答えなさい。

- (1) 海上の輸送路として徳川氏が将軍であった時代に開かれた、西まわり航路にあたるものを、右の地図中のア～ウの中から一つ選び、その記号を書きなさい。(2点)



- (2) Hさんは、徳川氏が将軍であった時代における株仲間に関する政策について調べ、次の表2をつくりました。表2中の **I** にあてはまる人物名を書きなさい。また、**II** にあてはまる政策の内容を書きなさい。(4点)

表2

	当時の老中	政策の内容
田沼の政治	田沼意次	株仲間を作ることを奨励し、株仲間から II 。
天保の改革	I	物価の上昇をおさえるため、株仲間の解散を命じる。

4 次の年表をみて、問1～問5に答えなさい。(16点)

西暦(年)	できごと
1854	・日米和親条約が結ばれる……………A
1895	・下関条約が結ばれる……………B
1904	・日露戦争が始まる……………C
1945	・第二次世界大戦が終わる……………D
1949	・ <input type="text" value="X"/> 条約機構がえられる
1951	・サンフランシスコ平和条約が結ばれる……………E
1955	・ <input type="text" value="Y"/> 条約機構がえられる
1973	・石油危機が起こる……………E

問1 年表中Aの時期のできごとについて述べた文として正しいものを、次のア～エの中から一つ選び、その記号を書きなさい。(2点)

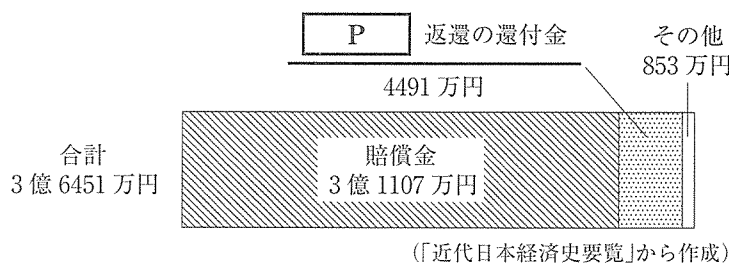
- ア 与謝野晶子が、出兵した弟を思って「君死にたまふことなけれ」という詩を発表した。
- イ 福沢諭吉が、「天は人の上に人をつくらず」に始まる『学問のすゝめ』をあらわした。
- ウ 新渡戸稲造が、世界平和と国際協調をうたう国際連盟の本部の事務局次長に就任した。
- エ 平塚らいてうが、女性解放を唱え青鞥社を結成し、女性のための雑誌『青鞥』を発刊した。

問2 年表中Bに関連して、資料1は、下関条約の内容をまとめたものです。また、グラフは、日清戦争と、その後の三国干渉の影響によって日本が得た賠償金などの内訳をまとめたものです。グラフ中の下線部を日本が得ることになった理由を、三国干渉とはどのようなことかについてふれながら、資料1とグラフ及び地図1中の にあてはまる半島の名称を用いて、説明しなさい。(5点)

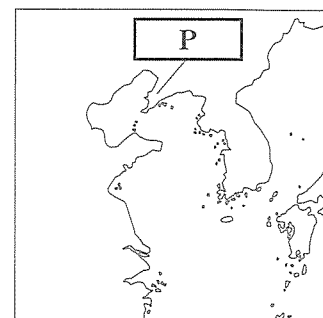
資料1

- ・朝鮮の独立を認めること。
- ・ , 台湾, 澎湖諸島を日本にゆすりわたすこと。
- ・賠償金2億^{テール}両(当時の日本円で約3億1000万円)を支払うこと。

グラフ



地図1



問 3 次のア～エは、年表中Cの時期における日本の政治や社会の様子を述べた文です。年代の古い順に並べかえ、その順に記号で書きなさい。(2点)

ア 農地改革が行われ、政府が地主の農地を買いあげ、小作人に安く売りわたした。

イ ポーツマス条約で賠償金が得られないことがわかると、日比谷焼き打ち事件などの暴動が発生した。



ウ 賃上げや労働時間の短縮を要求する労働争議が頻発し、日本で最初のメーデーも行われた。

エ 国家総動員法が制定され、政府は議会の承認なしに、労働力や物資を動員できるようになった。

問 4 次は、年表中Dの時期のできごとについてまとめたものです。年表及びまとめの中の と にあてはまる語を、それぞれ書きなさい。(各2点)

まとめ

第二次世界大戦後、連合国間の協調は、長くは続きませんでした。アメリカを中心とする資本主義の西側と、ソ連を中心とする共産主義の東側に分裂し、軍事同盟として、1949年に西側の 条約機構が、1955年には東側の 条約機構がつけられました。

右の地図2は、1955年における東西の対立をあらわしたもので、地図2中の  で示した国が 条約機構の加盟国で、  で示した国が 条約機構の加盟国です。

地図2



問 5 次の資料2は、年表中Eのできごとの日本での影響を示したものです。石油危機により、先進工業国の経済は不況となりましたが、石油危機のきっかけとなった戦争の名称を書きなさい。(3点)

資料2 トイレットペーパー売り場に殺到する人々(1973年 東京都)



※時事通信より提供



※共同通信社より提供

5 Mさんのクラスでは、公民的分野の学習のまとめとして、自分の興味のある分野からテーマを選び、調べることになりました。次の表1は、Mさんが興味をもった分野とテーマについてまとめたものです。表1をみて、問1～問7に答えなさい。(24点)

表1

分野	テーマ
立憲主義と① <u>日本国憲法</u>	・日本国憲法にはどのような基本原理が定められているのか。
政治参加と② <u>選挙</u>	・選挙はどのように行われているのか。
国の政治のしくみ	・③ <u>国会</u> 、 <u>内閣</u> 、 <u>裁判所</u> の三権はどのような関係にあるのか。
④ <u>地方自治</u> と私たち	・地方自治はどのようなしくみで行われているのか。
景気と⑤ <u>金融政策</u>	・景気の変動に対して、日本銀行はどのような対策を行っているのか。
私たちの生活と財政	・⑥ <u>税金</u> の制度はどうあるべきなのか。
国際社会のしくみ	・⑦ <u>国際連合</u> はどのような役割を果たしているのか。

問1 Mさんは、下線部①について調べ、次のようにまとめました。まとめの中の A にあてはまる語を書きなさい。(3点)

まとめ

法の中で、憲法は国の在り方の根本を定める法であり、国の基礎となる A です。右の図1のように、憲法を頂点として、すべての法が位置づけられており、下にある法が、上にある法に反することはありません。日本国憲法第98条には「この憲法は、国の A であつて、その条規に反する法律、命令、しょうちよく 詔勅及び国務に関するその他の行為の全部又は一部は、その効力を有しない。」と定められています。

図1 法の構成

問2 下線部②に関連して、現在の日本の選挙に関して述べた文として正しいものを、次のア～オの中からすべて選び、その記号を書きなさい。(3点)

- ア 一定の年齢以上の全ての国民が選挙権を得るという原則を普通選挙といい、日本国憲法で保障されている。
- イ 国会議員の選挙では、外国で暮らす日本国民が外国からでも投票できる制度が採られている。
- ウ 国会議員の選挙では、投票用紙に、政党や候補者の名前のほか、投票した人自身の名前を書くこととなっている。
- エ 衆議院議員の選挙において、小選挙区制で選出される議員の定数は、比例代表制で選出される議員の定数より多い。
- オ 参議院議員の選挙は、選挙区制と比例代表制で行われ、4年ごとに議員定数の半数ずつが改選される。

問 5 次は、下線部⑤について学ぶ授業における、先生とMさんの会話です。会話文中の ～ にあてはまる語の組み合わせとして正しいものを、下のア～カの中から一つ選び、その記号を書きなさい。(2点)

先生：前回の授業で学習しましたが、景気は不景気と好景気が交互に繰り返されます。

不景気は、私たちの生活にどのような影響があると学習しましたか。

Mさん：商品の売れ行きが落ち、企業の生産が減り、家計の所得は減少すると学習しました。

先生：そうですね。そのほかに、不景気になると が起こることもあるという学習もしましたね。 とは、どのようなことか覚えていますか。

Mさん：物価が下落し続けることです。

先生：そのとおりです。物価が変動すると、企業や家計に影響を与えるので、日本銀行は、物価の安定を図るために金融政策を行います。今日はこの金融政策について学習していきます。

Mさん：日本銀行はどのようなことを行うのですか。

先生：おもに国債などの売買によって、市場に流通する資金の量を調節することなどを行います。例えば、不景気ときには、日本銀行は国債などを ことを行います。では、日本銀行が国債などを と、市場に流通する資金の量と企業の生産活動はどのように変化すると考えられますか。

Mさん：市場に流通する資金の量は して、企業の生産活動は活発になることが考えられるのではないのでしょうか。

先生：そうですね。一般的に、市場に流通する資金の量が すると、企業の生産活動が活発になり、景気は回復に向かうとされています。

- | | | | |
|---|--------------|---------|----------|
| ア | I - インフレーション | II - 買う | III - 減少 |
| イ | I - インフレーション | II - 売る | III - 増加 |
| ウ | I - インフレーション | II - 売る | III - 減少 |
| エ | I - デフレーション | II - 売る | III - 増加 |
| オ | I - デフレーション | II - 買う | III - 減少 |
| カ | I - デフレーション | II - 買う | III - 増加 |

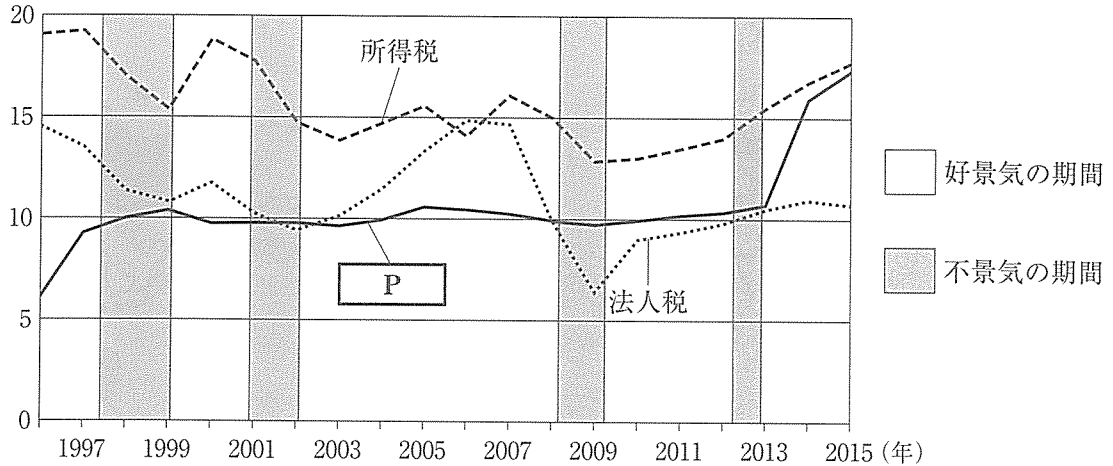
問 6 下線部⑥に関連して、右の資料は2014年4月1日の新聞記事の見出しです。また、次のグラフはMさんが日本のおもな税金の税収の推移と景気について調べ、つくったものです。資料とグラフをみて、下の(1)と(2)の問いに答えなさい。

資料

P 8%に
17年ぶり税率上げ

グラフ

(兆円)



(財務省ホームページなどから作成)

- (1) 資料とグラフの中の **P** にあてはまる間接税の名称を書きなさい。(2点)
- (2) グラフから読みとれる **P** にあてはまる間接税の特色を、1997年から2013年の期間における税収の推移と景気に着目し、所得税及び法人税と比較しながら書きなさい。(3点)

問 7 Mさんは、下線部⑦について調べ、次のようにまとめました。まとめの中の **Q** にあてはまる国際連合の機関の名称を書きなさい。(3点)

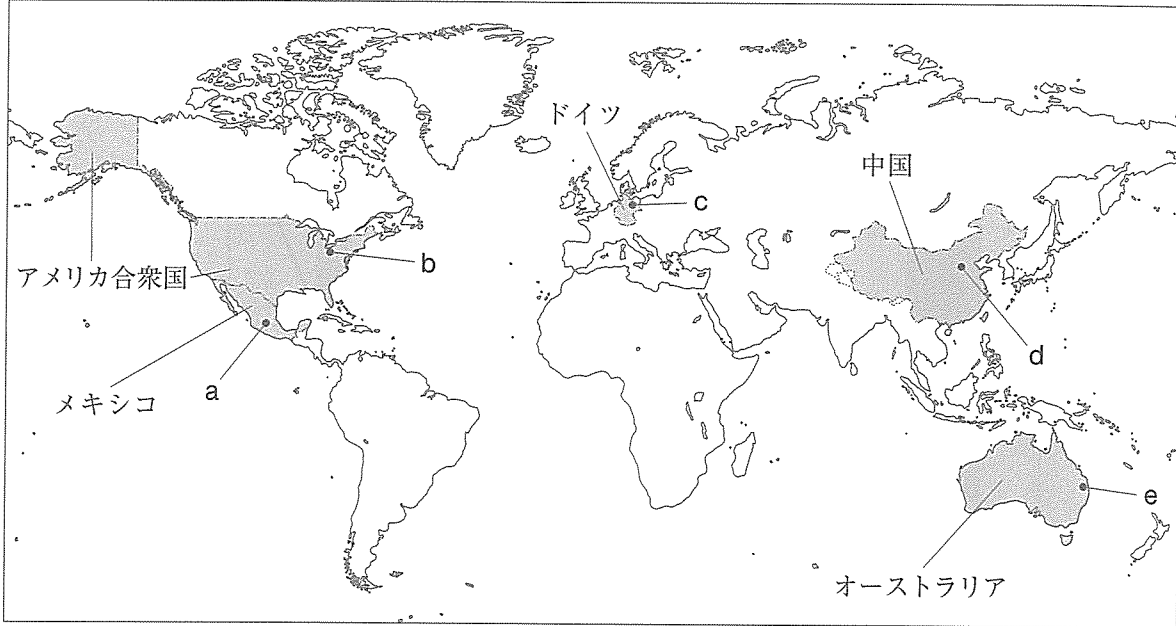
まとめ

国際連合には、文化・教育の振興に取り組むユネスコ、感染症などへの保健政策を行う世界保健機関、労働問題の解決を目指す国際労働機関、子どもたちの権利を守る **Q** など、様々な専門機関や補助機関があります。 **Q** は「子どもの権利条約」の考え方を具体的に実行し、世界の子どもたちの命と健康と教育を守るための活動を行っています。

6 Hさんは、埼玉県の国際文化交流について調べ、埼玉県の5つの姉妹友好州省についてまとめた次の地図1とまとめ1をつくりました。地図1とまとめ1をみて、問1～問4に答えなさい。

(15点)

地図1



まとめ1

メキシコ	<p>地図1中のaは、メキシコ州の州都であるトルーカ市の位置を示しています。メキシコ州は、メキシコの中央部に位置し、大部分が標高2000mを超える高地です。トウモロコシ栽培などの農業が盛んであり、また、テオティワカン文明の神殿や、スペイン統治時代に建てられた教会など、遺跡・名所が多くあります。</p>
アメリカ合衆国	<p>地図1中のbは、オハイオ州の州都であるコロンバス市の位置を示しています。オハイオ州は、五大湖の一つであるエリー湖に接する全米有数の工業州であり、多くの日系企業が進出しています。一方で、全米有数の穀倉地帯でもあります。また、州内には300以上の博物館、美術館があります。</p>
ドイツ	<p>地図1中のcは、ブランデンブルク州の州都である <input type="text" value="X"/> 市の位置を示しています。ブランデンブルク州はドイツの首都ベルリンを取り囲むように位置し、森と湖に恵まれた自然豊かな州です。州都の <input type="text" value="X"/> は1945年7月、日本の降伏の条件を示す <input type="text" value="X"/> 宣言が発せられた地です。日本は、 <input type="text" value="X"/> 宣言を受け入れ、第二次世界大戦は終わりました。</p>
中国	<p>地図1中のdは、<small>さんせい</small>山西省の省都である<small>たいげん</small>太原市の位置を示しています。山西省は、北京の西南方、黄河の中流に位置する内陸省で、良質の石炭など鉱物資源に恵まれています。また、世界文化遺産に登録されている<small>うんこうせきくつ</small>雲崗石窟などの文化遺産も有名です。</p>
オーストラリア	<p>地図1中のeは、クイーンズランド州の州都であるブリスベン市の位置を示しています。クイーンズランド州は、オーストラリアの北東部に位置しており、砂糖や肉牛の生産が盛んです。また、世界最大のサンゴ礁のグレートバリアリーフなどのリゾート地は世界的に有名です。</p>

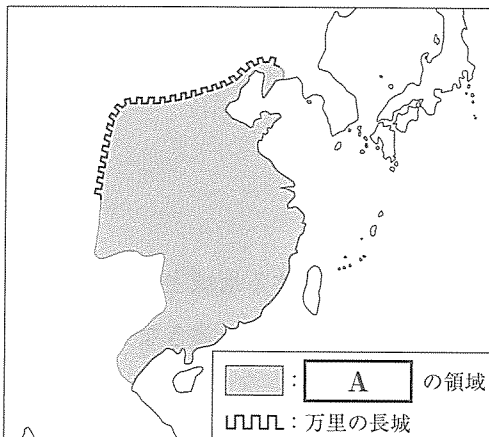
問 1 まとめ 1 中の中国に関連して、Hさんは古代の中国について調べ、次のまとめ 2 をつくりました。まとめ 2 中の にあてはまる中国の国名を書きなさい。

また、 にあてはまる、 が万里の長城を築いた目的を、地図 2 中の万里の長城の位置に着目して書きなさい。(5 点)


まとめ 2

紀元前 3 世紀、 の始皇帝が初めて中国を統一しました。 は、文字や長さや重さ、容積の基準、貨幣を統一し、また、 ために万里の長城を築きました。次の地図 2 は、紀元前 3 世紀ごろの の領域を示したものです。また、資料は、明の時代に完成した万里の長城です。

地図 2



資料



問 2 まとめ 1 中のドイツに関連して、次の(1)と(2)の問いに答えなさい。

(1) まとめ 1 中の にあてはまる語を書きなさい。(2 点)

(2) 次のア～エは、ドイツに関するできごとについて述べた文です。年代の古い順に並べかえ、その順に記号で書きなさい。(3 点)

ア 冷戦の象徴であったベルリンの壁が取りこわされた翌年に東西ドイツが統一された。

イ 労働者の基本的権利の保護、社会福祉政策の導入などを定めたワイマール憲法が成立した。

ウ チェコスロバキア西部を併合したドイツが、ソ連と独ソ不可侵条約を結んだうえで、ポーランドに侵攻した。

エ 「鉄血宰相」と呼ばれたビスマルクの指導の下、周辺諸国との戦争に勝ち、ドイツの統一が実現した。

問 3 Hさんは、まとめ1中のアメリカ合衆国の、2015年における輸出総額、輸入総額と総額に占める貿易相手国の割合(上位5か国)を調べ、次の表をつくりました。表中のアメリカ合衆国の貿易相手国の中から、アメリカ合衆国の貿易収支において、貿易赤字が最も多い国を書きなさい。(2点)

表

輸出(%)		輸入(%)	
カナダ	18.6	中国	21.5
メキシコ	15.7	カナダ	13.2
中国	7.7	メキシコ	13.1
日本	4.2	日本	5.8
イギリス	3.7	ドイツ	5.5
その他	50.1	その他	40.9
総額(億ドル)	15046	総額(億ドル)	22417

(世界国勢図会 2017/18年版から作成)

問 4 Hさんは、まとめ1中のメキシコとアメリカ合衆国が関連する地域主義について調べ、次のようにまとめました。まとめ3の中の にあてはまる語を書きなさい。(3点)

まとめ3

特定の地域でまとまりをつくり、協調や協力をしていこうとする動きが世界各地でみられ、1994年に、アメリカ、カナダ、メキシコによる が発効しました。関税を撤廃するなどの政策により、 に加盟した3か国は経済的な結び付きを強めました。

(以上で問題は終わりです。)

1

問 1 *	
問 2 *	
問 3 *	
問 4 *	A (1)
	B (2)
	X Y

2

問 1 *	X	果	Y	果
問 2 *				
問 3 *	A			B
問 4 *	(1)			
	(2)			

3

問 1 *	
問 2 *	
問 3 *	(1)
	(2)
問 4 *	(1)
	(2)
	I II

1～3の計

受 検 番 号 第 番

(切りはなしてはいけません)

(丸じりには何も書いてはいけません)

4

問 1 *	
問 2 *	
問 3 *	
問 4 *	X Y
問 5 *	

5

問 1 *	
問 2 *	
問 3 *	
問 4 *	
問 5 *	
問 6 *	(1)
	(2)
問 7 *	

6

問 1 *	A B
問 2 *	(1)
	(2)
問 3 *	
問 4 *	

1～3の計

得 点 ※

受 検 番 号 第 番